

Т. В. Воронцова, В. С. Пономаренко,
О. Л. Хомич, І. В. Гарбузюк, Н. В. Андрук

Я ДОСЛІДЖУЮ СВІТ

ЧАСТИНА 1

Зошит-практикум інтегрованого курсу
для 2 класу закладів загальної середньої освіти
(у 2-х частинах)

Київ
Видавництво «Алатон»
2019

ЗМІСТ



Про мене.....	3
Знову разом	4
Безпека на дорогах	8
Бережемо здоров'я	11
Наша планета Земля.....	16
Головне про Африку	20
Стародавній Єгипет.....	24
Кенія — земля масаїв.....	28
Південна Африка і Мадагаскар	32
Головне про Азію	36
Подорож до Японії та Китаю	40
Великий шовковий шлях.....	44
Головне про Європу.....	48
Вивчаємо історію Південної Європи	52
Пам'ятки Центральної Європи	56
Різдво у Північній Європі	60

Схвалено для використання у загальноосвітніх навчальних закладах комісією з педагогіки та методики початкового навчання Науково-методичної ради з питань освіти Міністерства освіти і науки України (Лист ІМЗО від 03.07.2019 № 22.1/12-Г-540)

Я11 Я досліджую світ. Частина 1: зошит-практикум інтегрованого курсу для 2 кл. закладів загальної середньої освіти (у 2-х частинах) /Т. В. Воронцова, В. С. Пономаренко, О. Л. Хомич, І. В. Гарбузюк, Н. В. Андрук. — К.: Видавництво «Алатон», 2019. — 64 с.
ISBN 978-966-2663-68-6

Зошит-практикум «Я досліджую світ. Частина 1» створено відповідно до Державного стандарту початкової освіти, затвердженого постановою Кабінету Міністрів України від 21.02.2018 № 87. Може використовуватися у школах, що працюють за чинними Типовими освітніми програмами.

Зошит-практикум є частиною навчально-методичного комплексу, до якого також входять: підручник, методичний посібник для вчителя, електронний мультимедійний посібник для учнів, збірка відеоматеріалів і комп'ютерних презентацій.

Ці матеріали розміщено у вільному доступі за посиланням: http://autta.org.ua/ua/resources/ya_doslidzhuyu_svit/




УДК 57.081.1(075.2)

Про мене

Моє ім'я _____ .

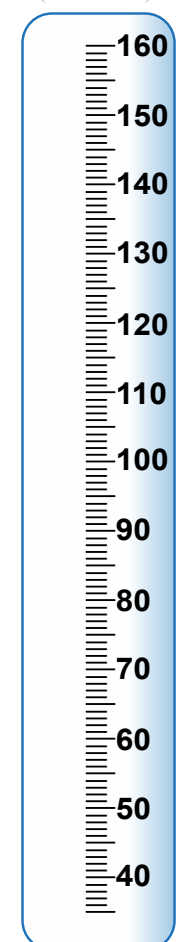
Дата мого народження

День	Місяць	Рік
<input type="text"/>	<input type="text"/>	<input type="text"/>

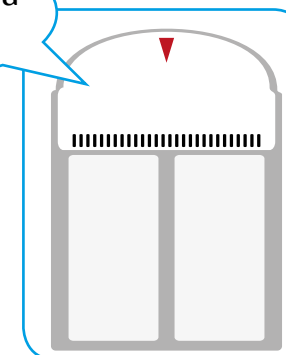
Я у  класі. У моєму класі  і .

А разом нас — .

Мій зріст
(познач)



Моя вага
(впиши)



Мій улюблений предмет

Мої улюблені:

Тварина
Персонаж
Хобі
Число

Знову разом

Розпитай однокласників і заповни бінго-форму.



Запиши імена однокласників, які влітку...

відпочивали на морі

1. _____
2. _____
3. _____

відпочивали в горах

1. _____
2. _____
3. _____

відпочивали у бабусі

1. _____
2. _____
3. _____

відпочивали на дачі

1. _____
2. _____
3. _____

1. Розглянь фото дітей і познач V зміни, які відбулися з ними протягом року.



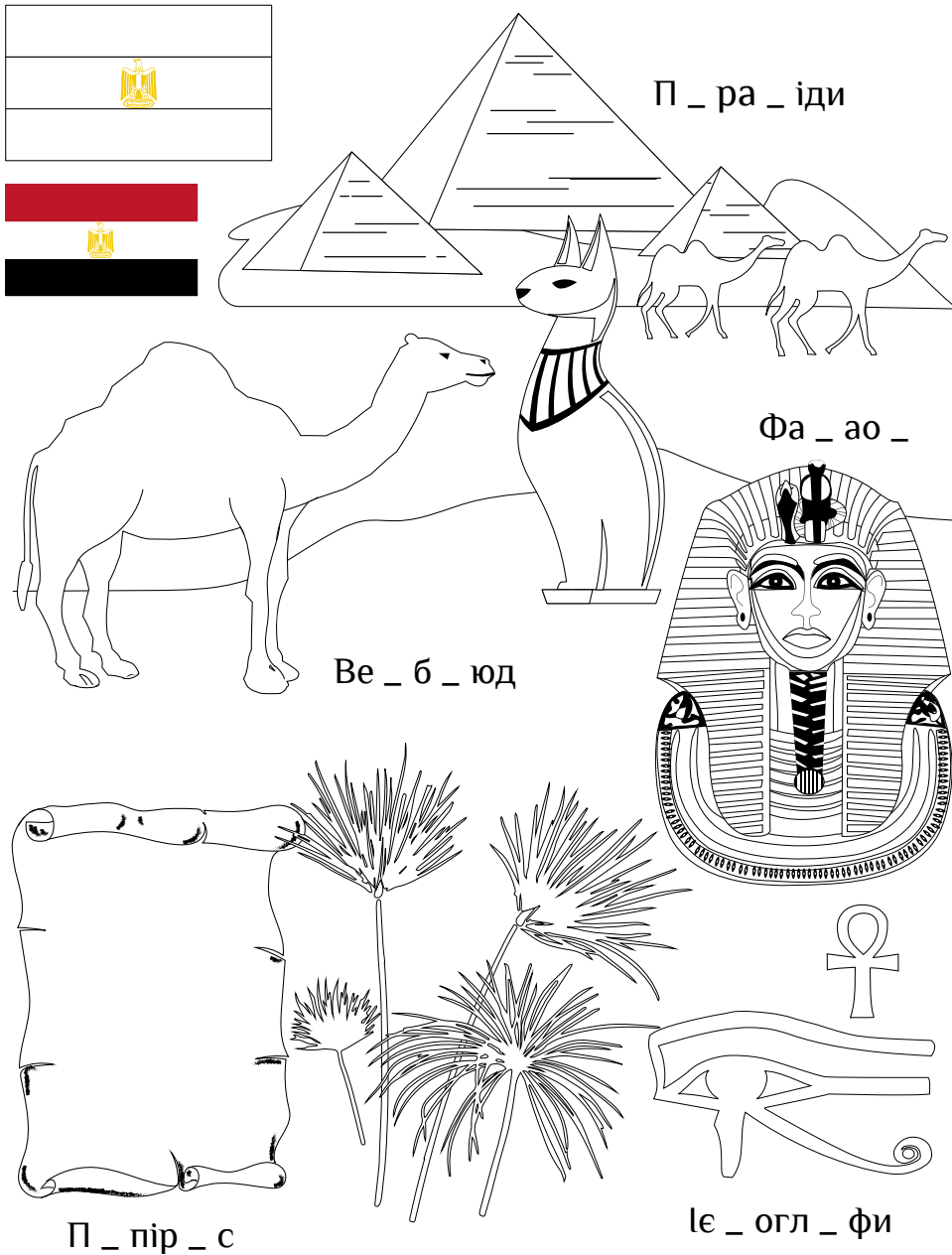
Зріст	V	Одяг	
Зачіска		Дата народження	
Стать		Колір очей	
Вага		Окуляри	
Кількість зубів		Ластовиння	

2. Запиши три зміни, які відбулися з тобою протягом року.

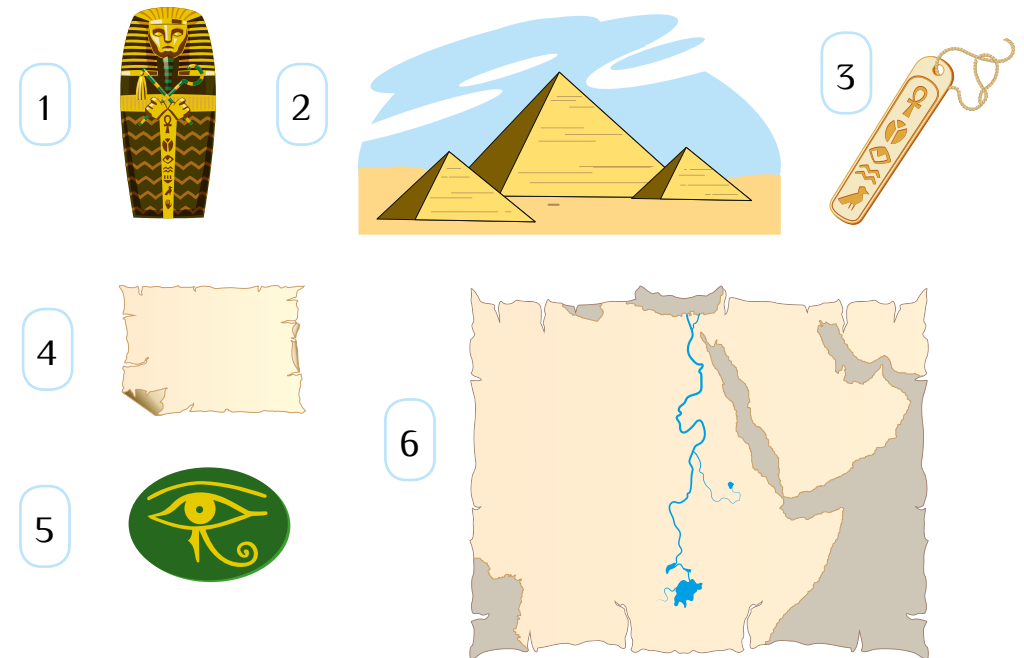
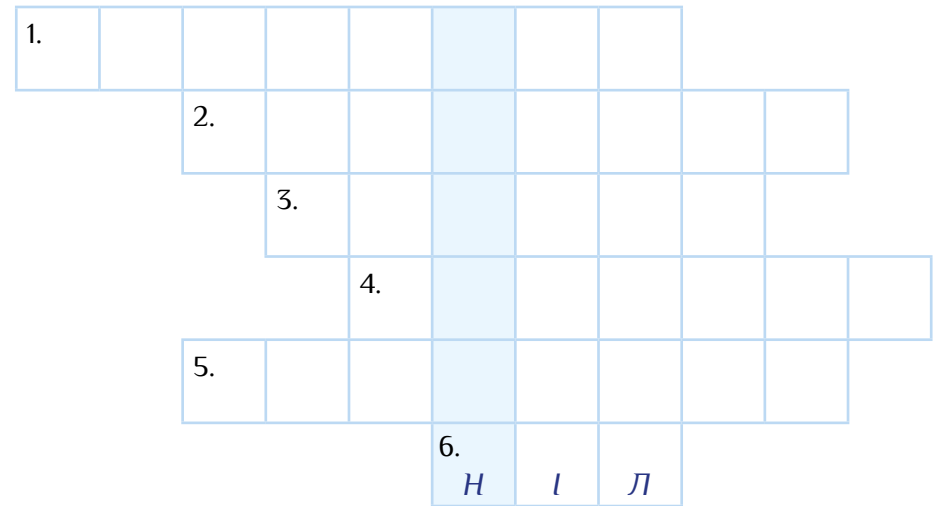
- 1) _____
- 2) _____
- 3) _____

Стародавній Єгипет

Встав пропущені букви і розфарбуй символи Єгипту.



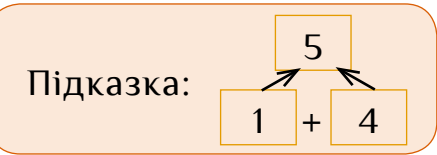
Розгадай кросворд і прочитай у блакитному стовпчику, як називали царя Стародавнього Єгипту.



Підказка: **Ніл**, папірус, саркофаг, картуш, ієрогліф, піраміда.

Підказка: I – 1; П – 10; Ф – 100

* Розв'яжи математичні піраміди.



1. Запиши числа давньоєгипетськими цифрами і навпаки.

40 11 20

ПППІІІІ ПППП ППППППІІІІІІ

2. Постав відповідні знаки (<, >) між числами.

ПІІІІІ ПП ПППІ ПППП Ф І

ППІІІІ ППІІ ІІІІ П ППП ППІІІІІІ

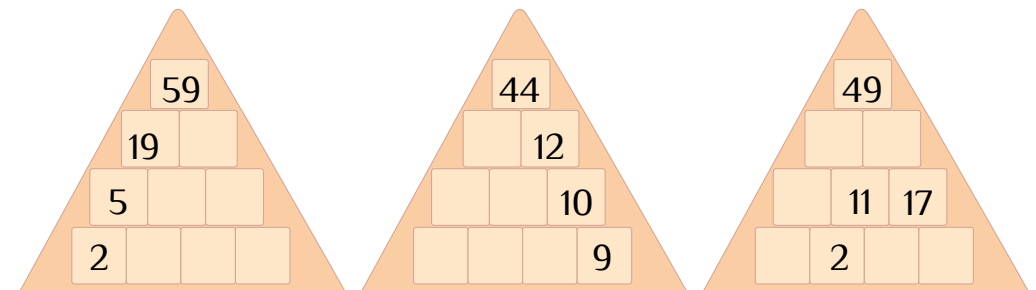
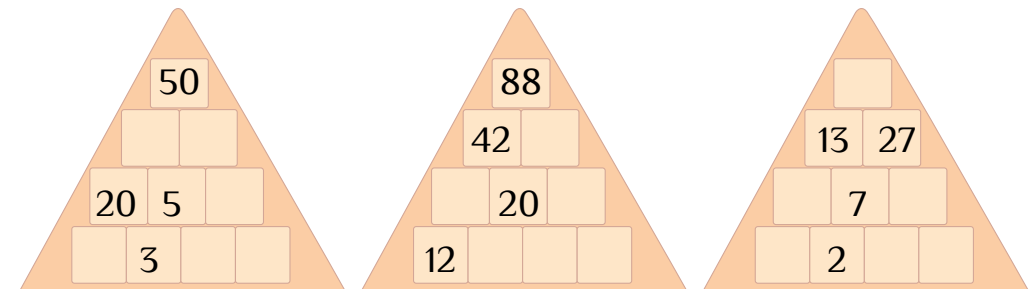
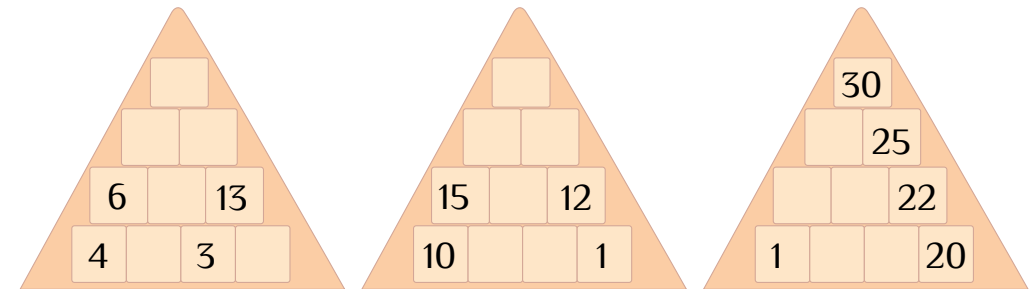
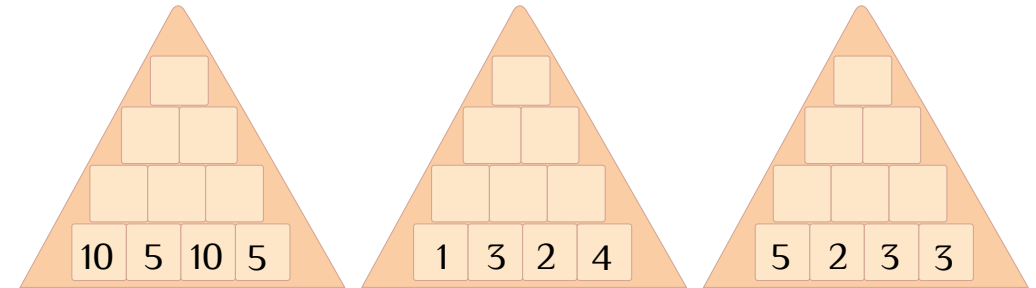
3. Запиши давньоєгипетськими цифрами числа, які складаються з:

1 десятка і 9 одиниць

3 десятків і 2 одиниць

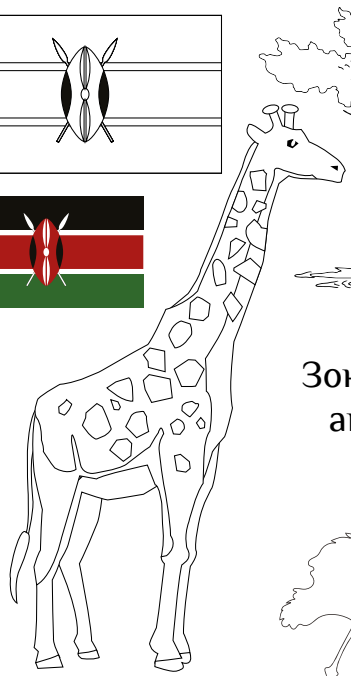
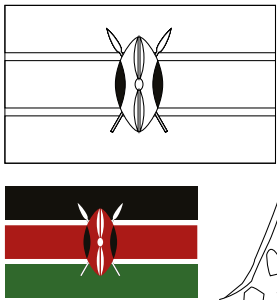
4 десятків і 5 одиниць

7 десятків і 3 одиниць





Кенія — земля масаїв


Встав пропущені слова і розфарбуй символи Кенії.





Зонтична акація



Фламінго

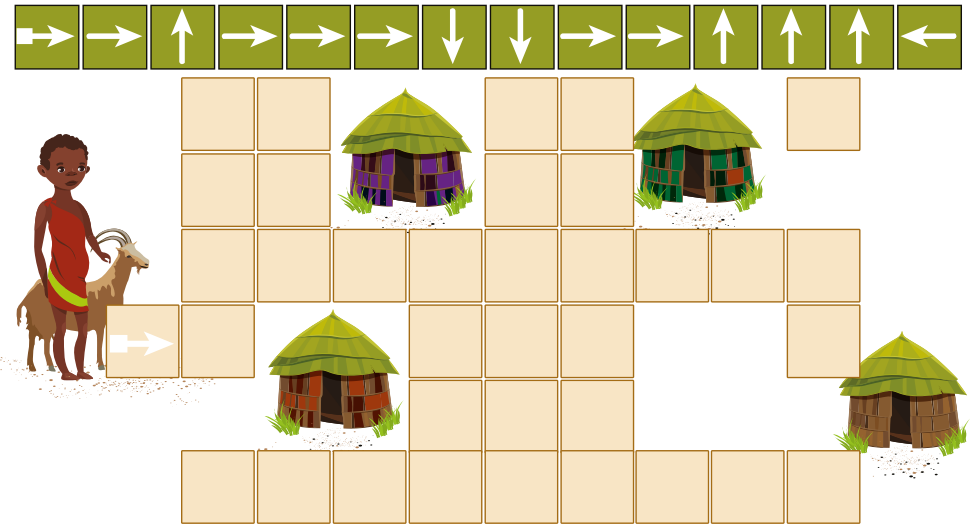


Масаї




Сафарі



1. Допоможи Нарісі дістатися до свого дому.





2. Розв'яжи приклади і з'єднай списи з тими кільцями на мішені, в які вони влучають.



1. Встав у таблиці пропущені числа.



	55	75	35		65
+					
	45	25		45	

	20		60		100
-					
	10	30		70	













Підказка:

 +  = 100

Підказка:

 -  = 10

2*. Розв'яжи математичний ребус. Запиши результати у порожні клітинки.

			8		<input type="text"/>
			8		<input type="text"/>
			9		<input type="text"/>
15	6	4	↑ ← Сума		<input type="text"/>

Визнач, які пари тварин поєднані між собою. Замалюй кружечки відповідним кольором на малюнку зліва.

